

令和2年度

奈良県公立高等学校入学者一般選抜学力検査問題

社 会

注 意

- 1 指示があるまで開いてはいけません。
- 2 解答用紙には，受検番号を忘れないように書きなさい。
- 3 解答用紙の※印のところには，何も書いてはいけません。
- 4 答えは必ず解答用紙に書きなさい。

1

絵里さんと秀一さんは、一万円、五千円、千円の紙幣が20年ぶりに刷新されることを知って、日本銀行発行の紙幣の図柄に興味をもち、調べた。各問いに答えよ。

(1) 次の表は、絵里さんと秀一さんが、これまでに発行された紙幣の図柄となった人物とそれぞれが行ったことを調べて整理したもの的一部である。

人物	行ったこと
A 聖徳太子	蘇我馬子と協力しながら、天皇を中心とする政治制度を整えようとした。
藤原鎌足	中大兄皇子とともに蘇我氏を倒し、B 大化の改新と呼ばれる改革に関わった。
板垣退助	C 自由民権運動の始まりとなる民撰議院設立建白書を政府に提出し、国会の開設を要求した。
新渡戸稲造	世界平和と国際協調を目的としたD 国際連盟の事務局次長を務めた。

① 資料Ⅰは、下線部Aが定めたきまりの一部である。このきまりは誰の心がまえとして示されたものか。次のア～エから1つ選び、その記号を書け。

[資料Ⅰ]

二に日く、あつく三宝を敬え。三宝とは
仏・法・僧なり。
三に日く、^{いわ}詔^{みことり}を承りては、必ず謹め。

(「日本書紀」より作成)

ア 民衆 イ 天皇 ウ 役人 エ 僧

② 下線部Bと呼ばれる改革以来めざしてきた律令国家が大宝律令の制定により形づくられた。次のa～cは、大化の改新から大宝律令の制定までの期間の出来事である。年代の古いものから順に正しく並べられているものを、後のア～エから1つ選び、その記号を書け。

a 白村江の戦いが起こる。 b 藤原京に都を移す。 c 壬申の乱が起こる。

ア a→b→c イ a→c→b ウ b→a→c エ b→c→a

③ 資料Ⅱは、下線部Cに対して政府が定めた法令の一部を要約したものである。また、資料Ⅲは、自由民権運動の演説会の様子を示したものである。資料Ⅱ、資料Ⅲにみられる、自由民権運動に対する政府の方針を、「言論」、「批判」の語を用いて簡潔に書け。

[資料Ⅱ]

第6条 集会が届け出の内容と違うときや、社会秩序を妨げるようなとき、(略)警察官は集会を解散させることができる。

(「法令全書」より作成)

[資料Ⅲ]

自由民権運動の演説会の様子を示した絵

④ 下線部Dの設立を提案したアメリカの大統領は誰か。その人物名を書け。

(2) 資料Ⅳは、2000年に発行が開始された二千円札の裏面を示したものである。資料Ⅳの左側の図柄は、紫式部の作品を題材にした絵巻物の一場面である。この図柄にみられるような、平安時代に生まれた絵画の様式の名称と、絵巻物となった紫式部の作品の名称は何か。その組み合わせとして正しいものを、次のア～エから1つ選び、その記号を書け。

[資料Ⅳ]

二千円札の裏面

ア 大和絵・源氏物語 イ 大和絵・枕草子 ウ 浮世絵・源氏物語 エ 浮世絵・枕草子

(3) 右の表は、絵里さんと秀一さんが、2004年に発行が開始された紙幣の図柄を調べて整理したものである。

紙幣	表面	裏面
一万円	福沢諭吉	E 平等院鳳凰堂の鳳凰像
五千円	樋口一葉	F 尾形光琳の「燕子花図」
千円	野口英世	富士山と桜

- ① 資料Vは、一万円、五千円、千円のいずれかの紙幣の表面に描かれた人物を採用した理由を財務省が示したものである。資料Vは、どの人物の採用理由に当たるか。次のア～ウから1つ選び、その記号を書け。

ア 福沢諭吉 イ 樋口一葉 ウ 野口英世

- ② 資料VIは、世界の出来事を年代の古い順に表し、それぞれの出来事で区切られた期間をア～エとしたものである。下線部Eが建てられたのは、どの期間に当てはまるか。資料VI中のア～エから1つ選び、その記号を書け。

- ③ 下線部Fが活躍したころは、幕府政治の安定とともに都市が繁栄し、新しい文化が栄えていた。この文化の特色を、中心となった地域に触れながら、簡潔に書け。

- (4) 次の 内は、絵里さんと秀一さんが、20年ぶりに刷新される紙幣の図柄について話したときの会話の一部である。

絵里：新しく発行される紙幣の図柄に採用されたのは、渋沢栄一、津田梅子、北里柴三郎の3人ですね。

秀一：はい。渋沢栄一はフランスで学んだ経験を生かし、日本で多くの企業を設立し、G産業の発展に貢献しました。津田梅子は政府が募集した最初の女子留学生の一人として、H岩倉具視を大使とする使節団に同行し、アメリカへ渡りました。帰国後は教師になり、生涯を通じて女子教育に尽力しました。ペスト菌を発見した北里柴三郎は留学のためにドイツへ渡り、医学の研究を続けました。

絵里：3人は日本を代表する偉大な人物であり、それぞれの功績は日本の産業・教育・医学分野の発展をもたららし、現代社会にも大きな影響を与えています。このような観点から、私も紙幣の図柄にしたい人物を考えてみました。

秀一：それは興味があります。どのような人物を選んだのか、教えてください。

- ① 資料VIIは、下線部Gの過程における、1914年と1919年の国内の生産総額を示したものである。資料VIIの生産総額の変化にみられる経済状況を表す言葉として最も適切なものを、次のア～エから1つ選び、その記号を書け。

ア 高度経済成長 イ 金融恐慌 ウ 世界恐慌 エ 大戦景気

- ② 下線部Hは、当初の主な目的の達成が困難なことが明らかになると、その後は欧米の制度や文化を学んで帰国した。この当初の主な目的とは何か。簡潔に書け。

- ③ 下のメモは、絵里さんが紙幣の図柄にしたい人物についてまとめたものである。(X) に当てはまる言葉を、「女性」の語を用いて簡潔に書け。

・図柄にしたい人物＝平塚らいてう
 ・選んだポイント＝青鞥社を結成して、女性に対する古い慣習や考え方を批判する活動を行い、さらに市川房枝らと女性の社会的地位の向上を求めて、本格的な活動に取り組んだことです。第二次世界大戦後に(X) ことにより、写真のような様子がみられました。このことは、日本の社会が平塚らのめざした社会に一步近づいたことを示しています。
 このような人物を紙幣の図柄にすることで、人々の願いの実現に向けて努力した先人の働きを忘れないようにしたいと思います。

投票する女性の
写真

[資料V]


今まで日本銀行券の肖像として選択したことのなかった科学者を採用することとし、また、学校の教科書にも登場するなど、知名度の高い文化人の中から採用したものです。

(財務省Webサイトより)

[資料VI]

世界の出来事	
ムハンマドがイスラム教を開く。――	↑ア
唐が滅亡する。――	↓イ
チンギス＝ハンがモンゴルを統一する。――	↑ウ
ルターが宗教改革を始める。――	↓エ
フランスで人権宣言が発表される。――	↓

[資料VII]

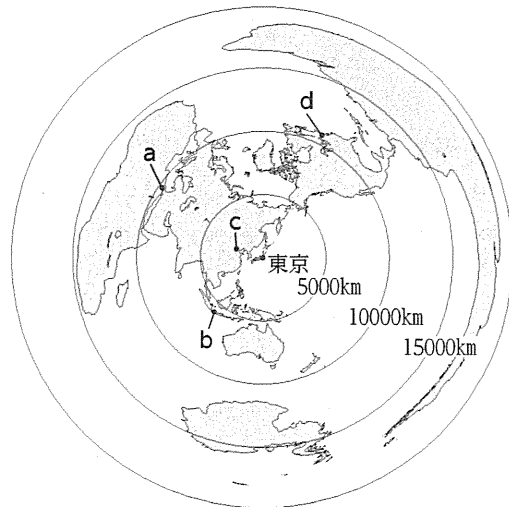


(「日本資本主義発達史年表」より作成)

2

今年、2020年東京オリンピック・パラリンピック競技大会が開催されるため、世界や日本の各地から多くの人々が東京を訪れることが予想される。世界や日本の各地と東京との結びつきについて、各問いに答えよ。

(1) 右の地図は、東京からの距離と方位が正しい地図である。地図中のa～dは、東京都の姉妹友好都市であり、aはカイロ、bはジャカルタ、cはペキン、dはニューヨークを示している。

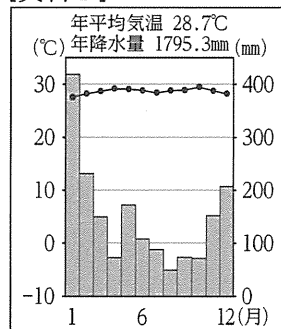


① 次の 内のどちらの条件にも当てはまる都市を、地図中のa～dから1つ選び、その記号を書け。

- ・東京から約10000km離れている。
- ・東京から見て、北西の方位にある。

② 資料Ⅰは、地図中のa～dのいずれかの都市の雨温図である。この雨温図に当てはまる都市を、a～dから1つ選び、その記号を書け。

[資料Ⅰ]



(気象庁Webサイトより作成)

③ 資料Ⅱは、地図中のa～dの都市があるエジプト、インドネシア、中国、アメリカの、2018年における日本への輸出額、日本へ輸出する主な品目と日本への輸出額に占める割合を示したものである。アメリカに当たるものはどれか。資料Ⅱ中のア～エから1つ選び、その記号を書け。

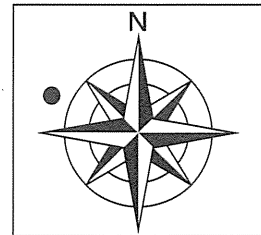
[資料Ⅱ]

国	日本への輸出額(億円)	日本へ輸出する主な品目と日本への輸出額に占める割合(%)			
ア	191,937	機械類 46.3	衣類 10.1	金属製品 3.5	
イ	23,789	石炭 14.7	液化天然ガス 12.4	機械類 11.1	
ウ	90,149	機械類 28.1	航空機類 5.3	医薬品 5.1	
エ	300	石油製品 46.8	液化天然ガス 26.9	機械類 6.1	

(「財務省貿易統計」より作成)

④ 資料Ⅲは、イスラム教徒の訪日外国人旅行者が増加していることから、東京駅に2017年に設置された施設の床にある表示を描いたものである。資料Ⅲ中の●の印は何を示しているか。簡潔に書け。

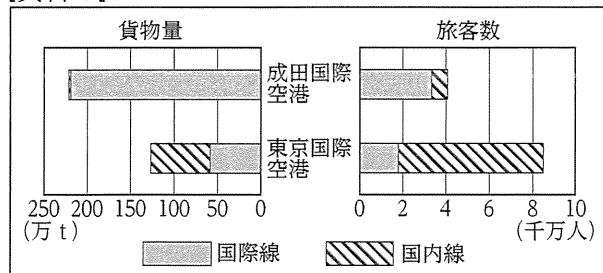
[資料Ⅲ]



(2) 資料Ⅳは、2018年の成田国際空港と東京国際空港の貨物量及び旅客数と、その国際線と国内線の内訳を示したものである。資料Ⅳから読み取ることができる内容として適切なものを、次のア～エからすべて選び、その記号を書け。

- ア 成田国際空港と東京国際空港の旅客数を合わせると、1億2千万人を超えている。
- イ 東京国際空港は、成田国際空港に比べ、国際線の貨物量が多い。
- ウ 成田国際空港は、貨物量、旅客数ともに、国際線よりも国内線が多い。
- エ 東京国際空港の旅客数は、国際線よりも国内線が多い。

[資料Ⅳ]



(「平成30年空港管理状況調書」より作成)

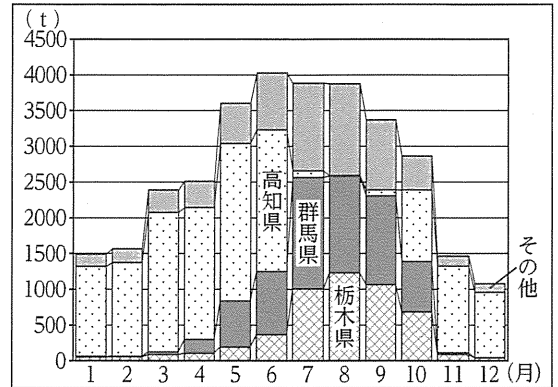
(3) 資料Vは、2017年の東京都中央卸売市場における、なすの月別入荷量とその内訳を示したものである。

① 資料V中の群馬県や栃木県では、大消費地である東京に近いことを生かして、都市向けに、野菜を新鮮なうちに出荷する農業がさかんである。このような農業を何というか。その名称を書け。

② 資料VIは、2017年の東京都中央卸売市場における、なすの月別平均卸売価格を示したものである。

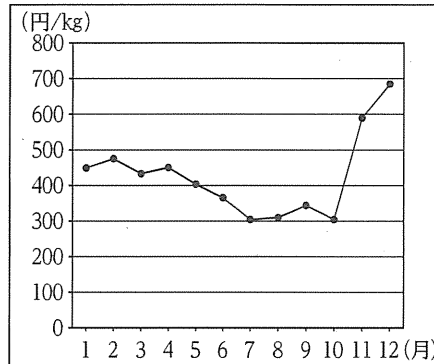
また、資料VIIは、高知県、群馬県、栃木県それぞれのなすの主な産地の月別平均気温を示したものである。資料V、資料VI、資料VIIから読み取ることができる、高知県のなすの出荷の特徴を簡潔に書け。

[資料V]



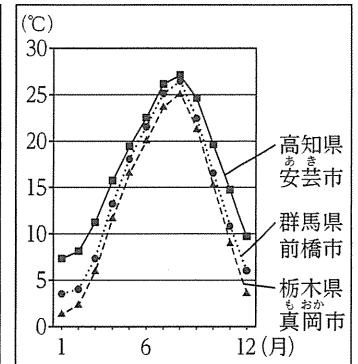
(農畜産業振興機構Webサイトより作成)

[資料VI]



(農畜産業振興機構Webサイトより作成)

[資料VII]



(気象庁Webサイトより作成)

3

現在、中学校3年生である健太さんは、2022年4月1日から成年年齢が18歳に引き下げられることを知り、先生と話をした。次の□内は、その会話の一部である。各問いに答えよ。

健太：私たちの学年から、18歳になると成人として扱われることになるそうですね。なぜ、成年年齢が20歳から18歳に引き下げられることになったのですか。

先生：近年、A日本国憲法の改正手続きにおける国民投票の投票権年齢やB公職選挙法の選挙権年齢が満18歳以上と定められ、国の政治に関わる重要な判断について、20歳以上の成人と同様に、18歳、19歳の人々の意見を聞くことになりました。そこで社会生活の上でも、18歳以上の人を成人として扱った方がよいという議論が起きました。また、世界的にも成年年齢を18歳とするのが主流です。このようなことから、「民法の一部を改正する法律」がC国会で制定され、成年年齢が18歳に引き下げられたのですよ。

健太：成年年齢に達すると、社会生活の上では、未成年のときと何が変わるのですか。

先生：保護者の同意を得なくても、携帯電話の契約を結ぶことなどができます。ただ、現在でも、成年年齢を迎えた直後の若者が、D消費者トラブルにあう事例が多くみられるので注意が必要です。

(1) 下線部Aには、さまざまな人権が規定されている。しかし、社会の変化とともに、日本国憲法に直接的には規定されていない権利が、日本国憲法の第13条にある幸福追求権などにもとづいて主張されるようになった。このような新しい人権に当てはまるものを、次のア～エから1つ選び、その記号を書け。

- ア 労働者が団結して行動できるように労働組合をつくる権利
- イ 自由に職業を選び、選んだ職業を営む権利
- ウ 権利が侵害された場合に裁判を受ける権利
- エ 個人の私的な生活や情報を他人の干渉から守る権利

(2) 右の表は、下線部Bが改正され、選挙権年齢が満18歳以上に引き下げられてから行われた国政選挙の実施年月について示したものである。

実施年月	国政選挙
(X)年7月	第24回参議院議員通常選挙
2017年10月	第48回衆議院議員総選挙
2019年7月	第25回参議院議員通常選挙

① 表中の (X) に当てはまる年を書け。

② 第48回衆議院議員総選挙は、小選挙区制と比例代表

制を組み合わせた小選挙区比例代表並立制で行われた。小選挙区制について述べた文として最も適切なものを、次のア～エから1つ選び、その記号を書け。

ア 1つの選挙区から複数名を選出する。

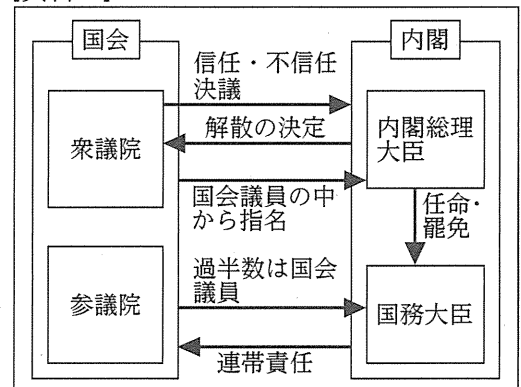
イ いずれかの政党が単独で議会の過半数の議席を獲得しやすい。

ウ 各政党の得票に応じて議席を配分する。

エ 落選者に投じられた票が少なくなる傾向がある。

(3) 資料Iは、下線部Cと内閣との関係を示したものである。次の 内は、衆議院において内閣不信任決議が可決された場合に、内閣が行わなければならないことについて述べたものである。資料Iを参考にして、 内の (Y) に当てはまる言葉を簡潔に書け。

[資料I]



内閣は、10日以内に (Y) か、総辞職をしなければならない。

(4) 下線部Dを防ぐために、さまざまな法律が制定され、行政による取り組みが行われている。

① 消費者を保護する法律の1つとして、消費者が商品の欠陥によって身体や財産に損害を受けたときに、消費者が製造業者の過失を証明しなくても、製造業者に賠償の責任を負わせることを定めたものがある。この法律を何というか。その名称を書け。

② 資料IIは、消費者庁が管理する国民生活センターのWebサイトに掲載されている相談事例とそれに対する回答である。また、資料IIIは、国民生活センターが発行している書籍の内容の一部である。国民生活センターが資料IIや資料IIIをWebサイトや書籍に掲載することは、消費者が自立した消費者として行動するための支援につながっている。自立した消費者とは、どのような消費者か。資料II、資料IIIを参考にして、「判断」の語を用いて簡潔に書け。

[資料II]

【相談事例】

インターネットによる通信販売で靴を購入しました。届いてから数日後に箱をあけてみたら、イメージしていたものと違うものが入っていることに気づきました。クーリング・オフはできますか。

【回答】

通信販売は、クーリング・オフができません。Webサイト上に表示されている「返品可否と返品可能な条件」をよく確認しましょう。また、返品できる場合でも、返品期限を設けている場合がよくみられますので、商品が手元に届いたら、すぐに中身を確認しましょう。

(国民生活センターWebサイトより作成)

[資料III]

ワンクリック詐欺

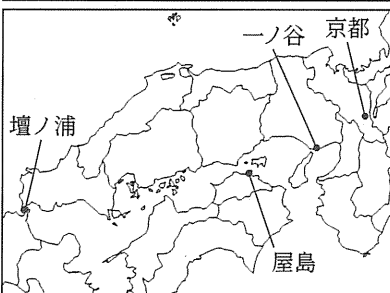
ワンクリック
詐欺について
説明した文章

(「2020年版くらしの豆知識」より作成)

4

和夫さんは、社会科の授業で「源平の争乱」について学習し、その後、国語科の授業で「平家物語」を学習した。2つの学習をもとに、「平氏が都を離れてから滅亡するまでの戦い」というテーマで、レポートをまとめた。次の□内は、その一部である。各問いに答えよ。

**平氏が都を離れてから
滅亡するまでの戦い**




[A 一ノ谷の戦い] (1184年)
一ノ谷(兵庫県神戸市)で源義経が平氏を奇襲し、平氏は四国に敗走する。「平家物語」では、平敦盛が源氏方に討たれる場面が描かれている。

[屋島の戦い] (1185年)
源義経がB屋島(香川県高松市)で平氏を攻め、平氏は瀬戸内海を西へ敗走する。「平家物語」では、源氏方の弓の名手である那須与一が平氏方の船上に立てられた扇の的を見事に射る場面が描かれている。

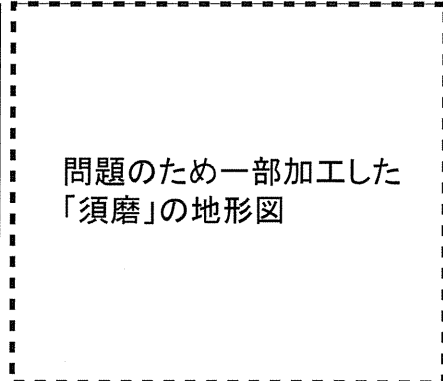
[壇ノ浦の戦い] (1185年)
壇ノ浦(山口県下関市)の海上で源平最後の戦いが行われ、平氏は滅亡する。「平家物語」では、C安徳天皇が水中に身を投げる場面が描かれている。

(1) 資料Ⅰは、武士や民衆の間に平家物語を広めた人を描いたものである。このような人を何と呼ぶか。その名称を書け。

[資料Ⅰ]



[資料Ⅱ]



(2) 資料Ⅱは、下線部Aが行われた場所の周辺の地形図である。

① 和夫さんは、地形図中のP地点に下線部Aの記念碑があり、Q地点に一ノ谷の戦いで亡くなった平敦盛の墓があることを知り、見学に行った。地形図上でP地点とQ地点を直線で結んだ長さは、2.6cmである。実際の直線距離は何mになるか。その距離を書け。

(国土地理院発行2万5千分の1地形図「須磨」より作成)

② 須磨浦公園駅からロープウェイに乗った和夫さんは、地形図中のR地点(鉢伏山上駅)で降り、一ノ谷町を眺めた。R地点(鉢伏山上駅)の標高は約何mか。最も適切なものを、次のア～エから1つ選び、その記号を書け。

ア 150m イ 200m ウ 250m エ 300m

(3) 下線部Bでは、歴史的資源を活用した観光客の誘致が進められ、観光客や市民の利便を図るために駐車場を設置する条例が、2017年に制定された。このように全国ではさまざまな条例が制定されている。条例とはどのようなものか。簡潔に書け。

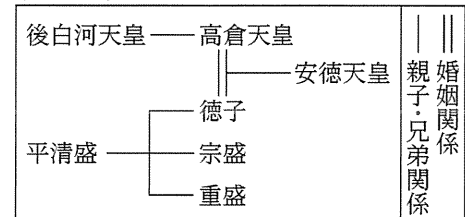
[資料Ⅲ]

府県	人口密度 (人/km ²)	県内総生産 (億円) [2016年度]	農業 産出額 (億円)	重要 文化財 の件数
ア	518.0	38,022	898	120
イ	564.9	104,876	740	2,162
ウ	228.1	60,875	681	135
エ	657.1	209,378	1,690	466

(「2018/19日本国勢図会」ほかより作成)

(4) 資料Ⅲは、レポート内の略地図に示された場所がある、京都府、兵庫県、香川県、山口県の4府県における2016年の、人口密度、県内総生産、農業産出額、重要文化財の件数を示した表である。兵庫県に当たるものはどれか。資料Ⅲ中のア～エから1つ選び、その記号を書け。

[資料Ⅳ]



(5) 資料Ⅳは、下線部Cを含む皇室と平氏の系図の一部である。武士である平清盛が政治の実権を握ることができた理由のうち、資料Ⅳから読み取ることができるものを簡潔に書け。