

令和4年度

奈良県公立高等学校入学者一般選抜学力検査問題

# 社 会

## 注 意

- 1 指示があるまで開いてはいけません。
- 2 解答用紙には、受検番号を忘れないように書きなさい。
- 3 解答用紙の※印のところには、何も書いてはいけません。
- 4 答えは必ず解答用紙に書きなさい。


1

令子さんは、「日本の歴史上の出来事の背景には、どのような世界の出来事があったのだろうか」という疑問をもち、日本の出来事とそれぞれの背景となる世界の出来事について、次のような表を作成した。各問いに答えよ。

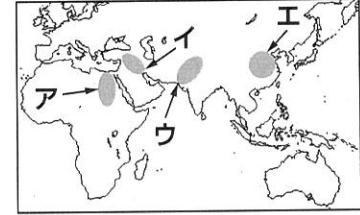
| 日本の出来事               | 世界の出来事                       |
|----------------------|------------------------------|
| 稲作が盛んになり、各地にクニが誕生した。 | 各地でA古代文明が発展し、麦や稲の栽培が世界に広まった。 |
| B日本で最初の仏教文化が栄えた。     | シャカの説いた仏教がアジア各地に伝えられた。       |
| C銅銭が多く輸入され、国内で流通した。  | 宋や明が建国され、アジア各地で交流や貿易が進んだ。    |
| ヨーロッパとの交流や貿易が始まった。   | ヨーロッパ人がD新航路の開拓を行った。          |

(1) 資料Ⅰは、下線部Aが生まれた地域のひとつで見られる遺跡の写真である。この遺跡がある地域を、略地図中のア～エから1つ選び、その記号を書け。

[資料Ⅰ]



[略地図]



(2) 下線部Bは、中国やインド、西アジアなどの影響がみられる文化であり、奈良盆地南部を中心に栄えた。この文化の名称を書け。

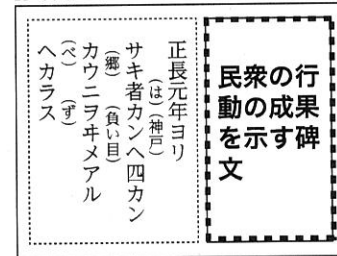
[資料Ⅱ]



(3) 下線部Cの流通が社会に与えた影響について興味をもった令子さんは、資料Ⅱと資料Ⅲを見つけ、これらの資料に見られる当時の社会の様子を調べた。次の□内は、令子さんがまとめたものの一部である。

・資料Ⅱは、市の様子を描いたものである。この頃の市は毎月決められた日に開かれた。その後、商業が活発になり、市の開かれる回数が増えたことから、貨幣の流通もさらに進んだと考えられる。  
 ・資料Ⅲは、民衆の行動の成果を示す碑文である。文中の「ヲキメ」とは借金のことであり、民衆の生活に貨幣が関わっていたことがわかる。

[資料Ⅲ]



- ① ~~~~~線部のような市を何というか。その名称を書け。
- ② 資料Ⅲに記されている内容に最も関係の深いものを、次のア～エから1つ選び、その記号を書け。

ア 楽市・楽座      イ 太閤検地      ウ 米騒動      エ 土一揆

(4) 下線部Dによりヨーロッパの国々がアジアへ進出し、日本にもキリスト教が伝えられた。キリスト教の伝来から、幕府がポルトガル船の来航を禁止するまでの間に起きた世界の出来事を、次のア～エから1つ選び、その記号を書け。

ア イギリスで産業革命が起きた。      イ ローマ教皇の呼びかけで十字軍の遠征が行われた。  
 ウ オランダがスペインから独立した。      エ 軍人のナポレオンが皇帝になった。

(5) 令子さんは、作成した表に近世以降の出来事に加えようと考え、日本と世界の出来事について、下のよう書き加えた。ペリー来航後の江戸幕府の対外政策の変化について、( X )に当てはまる言葉を、ペリーとの交渉により結んだ条約名を示しながら、簡潔に書け。

[令子さんが書き加えたことから]

| 日本の出来事 | 世界の出来事                         |
|--------|--------------------------------|
| ( X )  | 独立後に領土を拡大させたアメリカは、東アジアに関心を向けた。 |

2

和正さんは、歴史的分野の授業で学んだ内容について発表することになり、第二次世界大戦後の日本の様子に関するスライドと発表するためのメモを作成した。各問いに答えよ。

[スライドの目次]

|     |                   |
|-----|-------------------|
| テーマ | 「第二次世界大戦後の日本」     |
| 政治  | A 日本国憲法の制定        |
| 外交  | 日本の独立と B 国際社会への復帰 |
| 経済  | 経済の回復と発展          |
| 教育  | 新しい学校教育の開始        |

[メモ]

- ・政治では、日本国憲法を大日本帝国憲法と比較する。
- ・外交では、各国との外交関係に触れながら、国際社会に復帰する経緯について説明する。
- ・経済では、C 経済成長率の推移がわかるグラフを示す。
- ・教育では、写真を示し、D 戦後の教育について説明する。

(1) 資料Ⅰは、下線部Aの条文の一部である。和正さんは、資料Ⅰと、大日本帝国憲法で定められた同様の権利に関する条文とを比較し、気付いたことを、次の□内のように書き出した。( X )に当てはまる言葉を簡潔に書け。

- ・大日本帝国憲法の条文には、「臣民」という語が見られる。
- ・大日本帝国憲法において、言論・出版・集会・結社の自由は ( X ) という制限のもとで認められている。

[資料Ⅰ]

第二十一条 集会、結社及び言論、出版その他一切の表現の自由は、これを保障する。

(2) 資料Ⅱは、下線部Bの過程で日本がある国と結んだ取り決めの一部を示したものである。この取り決めの名称を、次のア～エから1つ選び、その記号を書け。

- ア 日ソ中立条約                      イ 日中平和友好条約
- ウ 日ソ共同宣言                    エ 日中共同声明

[資料Ⅱ]

4 (略) 国際連合への加入に関する日本国の申請を支持するものとする。

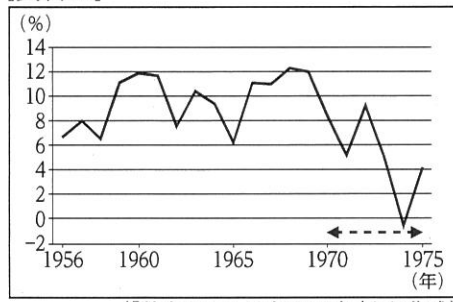
9 (略) 齒舞群島及び色丹島を日本国に引き渡すことに同意する。ただし、これらの諸島は、(略) 平和条約が締結された後に現実に引き渡されるものとする。

(外務省Webサイトより作成)

(3) 資料Ⅲは、1956年から1975年までの下線部Cを示したものである。資料Ⅲ中の←-----→の期間に起きた出来事を、次のア～エから2つ選び、その記号を書け。

- ア 東海道新幹線が開通する。      イ 環境庁が設置される。
- ウ 石油危機が起こる。              エ 朝鮮戦争が起こる。

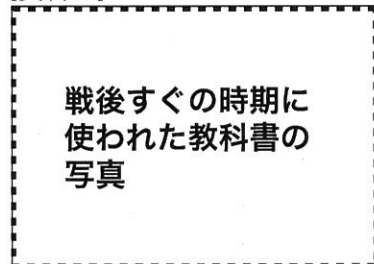
[資料Ⅲ]



(「数字でみる日本の100年」より作成)


(4) 和正さんは、資料Ⅳを示し、下線部Dを説明することにした。資料Ⅳは、戦後すぐの時期に使われた教科書の写真である。このように一部の記述を墨で塗った目的は何か。その目的を簡潔に書け。

[資料Ⅳ]



(5) 和正さんは、発表を通してさらに戦後の日本の様子に興味をもち、戦後の沖縄の出来事について詳しく調べることにした。資料Ⅴは、1972年に沖縄で撮影された写真である。和正さんは、資料Ⅴについて、次の□内のようにまとめた。( Y )に当てはまる言葉を、第二次世界大戦が終結した年からこの年までにおける沖縄の状況に触れながら、簡潔に書け。

[資料Ⅴ]



この写真は、( Y ) ことになり、これまで使用していたドルを円に交換するために銀行を訪れている人々の様子を写したものである。

3 夏美さんのクラスでは、2024年にオリンピック・パラリンピックが開催されるフランスと、その周辺の国について調べるようになった。略地図Ⅰ中のa～eは、ヨーロッパ州の国を示している。各問いに答えよ。

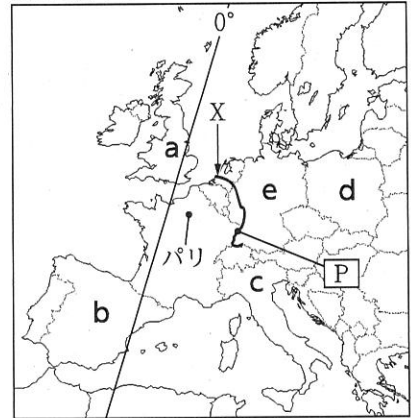
(1) 略地図Ⅰ中のパリの位置を表すために用いる語の組み合わせとして正しいものを、次のア～エから1つ選び、その記号を書け。

- ア 北緯，東経                      イ 北緯，西経  
ウ 南緯，東経                      エ 南緯，西経

(2) ヨーロッパ州には、複数の国を流れる国際河川が見られる。


- ① 略地図Ⅰ中の河川Xの名称を書け。  
② 資料Ⅰは、略地図Ⅰ中のP地点を撮影した写真である。資料Ⅰ中に見られる2か国間の通行にはどのような特徴があるか。「パスポート」，「国境」の語を用いて簡潔に書け。

[略地図Ⅰ]



(3) ヨーロッパ州の言語は、大きく、ゲルマン系，ラテン系，スラブ系の3つの系統に分けられる。資料Ⅱは、フランスと略地図Ⅰ中の国a～eの公用語で「こんにちは」を表す言葉をまとめた表である。フランスの公用語と同じ系統の言語を主に使用する国を、略地図Ⅰ中のa～eからすべて選び、その記号を書け。

[資料Ⅰ]



[資料Ⅱ]

| 国    | 「こんにちは」を表す言葉   |
|------|----------------|
| フランス | Bonjour        |
| a    | Good afternoon |
| b    | Buenas tardes  |
| c    | Buon giorno    |
| d    | Dzień dobry    |
| e    | Guten Tag      |

(4) 次の□内は、フランスの食品について調べている夏美さんと、幸平さんとの会話である。

夏美：幸平さんは、フランスの食品で知っているものはありますか。  
幸平：ハムやチーズ，それに，ワインやオリーブオイルは有名ですね。  
夏美：そうですね。フランスは，農業が盛んな国で，日本にも多くの食品を輸出しています。ところで，幸平さんは，ワインやオリーブオイルが日本でも生産されていることを知っていましたか。  
幸平：社会科見学でぶどう農園を訪れたときに，地域で作られたワインをA地域ブランドとして販売していると聞きました。でも，オリーブオイルが日本で生産されていることは知りませんでした。  
夏美：調べてみると，日本でのBオリーブの栽培は，約150年前にフランスから苗木が輸入されたことに始まり，現在は，香川県の小豆島で盛んに行われているようです。

- ① フランスでは，小麦やライ麦などの穀物の栽培と豚や牛などの家畜の飼育を組み合わせた農業が行われてきた。このような農業を何というか。その名称を書け。  
② 夏美さんは，日本とEUが相互に下線部Aを保護する取り決めを結んでいることを知り，地域ブランドの保護を目的とした「地理的表示保護制度」について調べた。資料Ⅲは，日本の地理的表示について説明したものである。政府がこのような制度を推進することで期待される効果として適切なものを，次のア～エから2つ選び，その記号を書け。

[資料Ⅲ]

○地理的表示（GI）とは

農林水産物・食品等の名称で，その名称から当該産品の産地を特定でき，産品の品質等の確立した特性が当該産地と結びついているということを特定できる名称の表示をいう。例：神戸ビーフ，夕張メロン

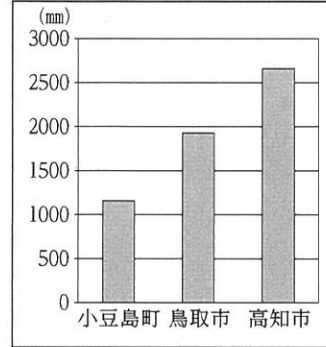
風土や伝統が育んだ特色ある地域産品を保護する「GIマーク」は地域ブランドの証です。

(政府広報オンラインWebサイトほかより作成)

- ア 消費者が、品質の保証された産品を購入することができる。
- イ 消費者が、外国産よりも低価格で地域産品を購入することができる。
- ウ 他の産地の産品との差別化を図ることができる。
- エ 優れた生産技術を、海外の生産者にも普及することができる。

③ 小豆島で下線部Bが盛んな理由のひとつとして、瀬戸内の降水量がオリーブの栽培に適していることが挙げられる。資料Ⅳは、小豆島町、鳥取市、高知市における年降水量を示したものである。略地図Ⅱは、小豆島町、鳥取市、高知市の位置を示したものである。瀬戸内の降水量の特徴を、資料Ⅳ、略地図Ⅱを参考にして、「季節風」の語を用いて簡潔に書け。

【資料Ⅳ】



(気象庁Webサイトより作成)

【略地図Ⅱ】



4

絵里さんのクラスでは、班ごとにテーマを決め、公民的分野の学習内容をまとめることになった。絵里さんの班は、「国の政治のしくみ」をテーマに設定し、取り組むことにした。各問いに答えよ。

(1) 国会は、国民が直接選んだ議員によって組織され、国民にとって重要な問題について審議している。

① 国会の種類のうち、衆議院解散後の総選挙の日から30日以内に召集されるものを、次のア～エから1つ選び、その記号を書け。

- ア 通常国会    イ 臨時国会    ウ 特別国会    エ 参議院の緊急集会

② 資料Ⅰは、ある法律案の採決の結果について示したものである。この法律案は、法律として成立したか、成立しなかったか。その理由を明らかにしながら、「出席議員」の語を用いて簡潔に書け。

【資料Ⅰ】



(注) この時の議員定数は、衆議院480人、参議院242人  
(衆議院Webサイトほかより作成)

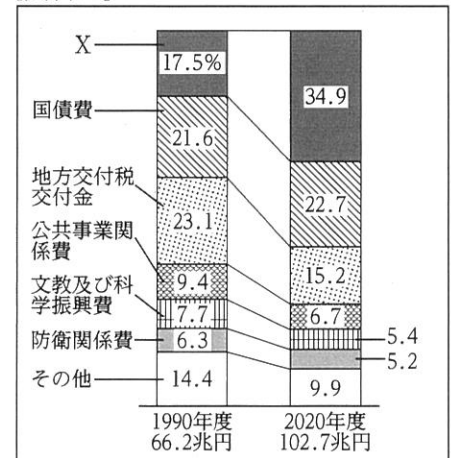
(2) 内閣は、行政機関を通して私たちの暮らしに関わる様々な仕事を行っている。

① 内閣の仕事に当てはまるものを、次のア～エからすべて選び、その記号を書け。

- ア 憲法改正の発議    イ 天皇の国事行為に対する助言と承認
- ウ 条約の承認    エ 最高裁判所長官の指名

② 資料Ⅱは、1990年度と2020年度における国の一般会計歳出の総額とその内訳を示したものである。絵里さんは、資料Ⅱ中の歳出の総額に占めるXの割合の変化に着目し、その理由を考察することにした。Xの割合の変化の理由を考察する上で必要な資料として最も適切なものを、次のア～エから1つ選び、その記号を書け。

【資料Ⅱ】




(財務省Webサイトより作成)

(3) 裁判所は、適正な手続きにより、法に基づいて裁判を行っている。

① 資料Ⅲは、刑事裁判の公判の様子を示した図である。 [資料Ⅲ]

この刑事裁判は、国民の中から選ばれた人たちが参加し、裁判官とともに、被告人が有罪か無罪か、有罪の場合はどのような刑罰にするかを定める制度の対象となっている。このような制度を何というか。その名称を書け。


② 次の [ ] 内は、資料Ⅲ中のア～ウのいずれかの役割について説明したものである。どの役割について説明したものか。資料Ⅲ中のア～ウから1つ選び、その記号を書け。



(政府広報オンラインWebサイトより作成)

警察と協力して犯罪の捜査をし、犯罪の疑いのある者を刑事裁判にかける。また、裁判では様々な証拠を出して、被告人が犯罪を行ったことなどを証明しようとする。


(4) 次の [ ] 内は、絵里さんと健太さんとの会話の一部である。( Y ) に当てはまる言葉を、「権力」、「国民」の語を用いて簡潔に書け。



絵里

国の政治は、立法権をもつ国会、行政権をもつ内閣、司法権をもつ裁判所により行われ、それぞれが独立して担当していることがわかりましたね。

三つの権力が独立し、互いに抑制し合い、均衡を保つことで、( Y ) ことができるようにしているのですね。



健太

5 次郎さんは、交通や都市に関することがらに興味をもち、調べることにした。各問いに答えよ。

(1) 江戸時代には、交通網が発達し、都市が繁栄した。

① 陸上交通や海上交通が整備され、武士や商人だけではなく、 [資料Ⅰ]

外国の使節なども行き来した。資料Ⅰは、将軍の代がわりなどの際に、朝鮮通信使が江戸を訪れた経路を示したものである。この経路についての説明として適切でないものを、次のア～エから1つ選び、その記号を書け。

<漢城～江戸までの主な経路>

漢城 → 釜山 → 対馬 → 下関

⇒ (瀬戸内海) ⇒ 大阪 → 京都

→ (東海道) → 江戸

→ 陸路 ⇒ 海路

ア 五街道として整備された街道を通っている。

イ 東まわり航路の一部を通っている。

ウ 西陣織などの工芸品が生産された都市に立ち寄っている。

エ 日本と朝鮮との国交回復のなかだちを行った藩に立ち寄っている。

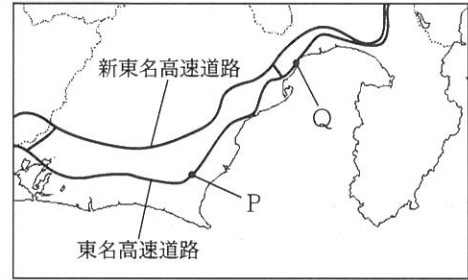
② 次の表は、近世における江戸と大阪についてまとめたものである。( X ) に当てはまる言葉を、「蔵屋敷」の語を用いて簡潔に書け。

|     |  |                          |
|-----|--|--------------------------|
| 都 市 | 江 戸  | 大 阪                      |
| 呼び名 | 「将軍のおひざもと」                                 | 「天下の台所」                  |
| 特 徴 | 幕府が開かれ、政治の中心地として発展し、18世紀初めには人口が約100万人となった。 | ( X ) が行われ、商業の中心地として栄えた。 |

(2) 1960年代以降、大都市を結ぶ高速道路の整備が進んだ。

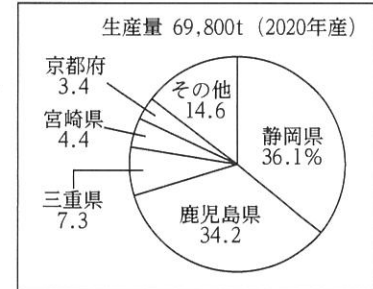
右の略地図は、東名高速道路と新東名高速道路の区間の一部を示したものである。略地図中のP、Qは、東名高速道路に設置されている休憩施設を示している。

[略地図]



① 略地図中のPでは、この地域で生産が盛んなある農産物を使用した料理や土産が提供されている。資料Ⅱは、その農産物の国内生産量とその内訳を示したものである。この農産物の名称を書け。


[資料Ⅱ]



(農林水産省Webサイトより作成)

② 新東名高速道路は、東名高速道路と並行して建設されている。資料Ⅲは、略地図中のQに掲示されているポスターの写真である。新東名高速道路が建設されたことによる利点について、略地図と資料Ⅲを関連付けて、簡潔に書け。

[資料Ⅲ]



(3) 次郎さんが住むR市では、市営バスを運行している。住宅や商店が多いa地域の路線の経営状況は黒字であるが、過疎化が進んでいるb地域の路線の経営状況は赤字である。そのため、R市はb地域の路線の廃止を検討している。次の表は、b地域の路線の廃止をめぐる意見の対立について、「効率」と「公正」の考え方で整理したものである。表中の( Y )に当てはまる言葉を、「機会や結果の公正さ」の考え方を踏まえて、簡潔に書け。

| 効率                        | 公正                  |
|---------------------------|---------------------|
| 市の財政改善のためには、路線の廃止はやむを得ない。 | ( Y ) ため、路線を存続すべきだ。 |